



SALA DE RECURSOS MULTIFUNCIONAL

ESCOLA MUNICIPAL PROFESSOR SEBASTIÃO FELTRIN

PROFESSORA: INÊS GOMES HARTMANN TURMA: B

ÁREAS TRABALHADAS: ÁREA DA LINGUAGEM, ÁREA DA MATEMÁTICA E COGNITIVA.

DATA DA REALIZAÇÃO: DE 09 A 13 DE AGOSTO.

ALUNO (A): _____ TURMA: 3º ANO



Senhores Pais e Responsáveis

Vocês estão recebendo as **ATIVIDADES COMPLEMENTARES DE ESTUDO PARA O PERÍODO DE ISOLAMENTO – COVID 19, referente a semana de 09 A 13 DE AGOSTO de 2021.** Contamos com sua participação para que todas essas atividades sejam realizadas pelo seu filho.

No roteiro a seguir estão as atividades e todas as orientações para sua execução. Tudo está descrito de forma simples. Qualquer dúvida estaremos a disposição no WhatsApp.

Abracos Professora Inês.

VÍDEO OU ÁUDIO DA EXPLICAÇÃO DA PROFª.	➤ ASSISTA AO VÍDEO/ÁUDIO EXPLICATIVO DA PROFESSORA.
O QUE VAI ESTUDAR?	ÁREA DA MATEMÁTICA: NÚMEROS NATURAIS: RELAÇÃO QUANTIDADE ATÉ 10. ÁREA DA LINGUAGEM: CONSCIÊNCIA FONOLÓGICA ÁREA COGNITIVA: QUEBRA CABEÇA
PARA QUÊ VAMOS ESTUDAR ESSES CONTEÚDOS?	<ul style="list-style-type: none">• DOMINAR NÚMEROS ATÁ 10 E AVANÇAR NA NUMERAÇÃO;• TER CONCIÊNCIA DE SOM E LETRA;• DESENVOLVER A ATENÇÃO , CONCENTRAÇÃO E RACIOCÍNIO.
COMO VAMOS ESTUDAR ESSES CONTEÚDOS	AS ATIVIDADES PROPOSTAS DEVEM SER REALIZADAS NOS ROTEIROS IMPRESSOS. ORGANIZE UM AMBIENTE TRANQUÍLO E FIQUE ATENTO AS EXPLICAÇÕES DADAS PELA PROFESSORA NO WHATSAPP.
COMO VAMOS REGISTRAR O QUE APRENDEMOS?	BUSCANDO AS ATIVIDADES IMPRESSAS NA ESCOLA. LENDO E PREENCHENDO DE ACORDO COM AS ORIENTAÇÕES AS ATIVIDADES ENVIADAS COMPLETAMENTE, SEM DEIXAR NADA EM BRANCO OU INCOMPLETO. OUVINDO ATENTAMENTE AS EXPLICAÇÕES QUE A PROFESSORA ENVIA PELO WHATSAPP E CHAMANDO QUANDO NÃO ENTENDER OU CONSEGUIR FAZER AS ATIVIDADES. DEVOLVENDO AS ATIVIDADES SEMANALMENTE PARA QUE A PROFESSORA FAÇA AS CORREÇÕES NECESSÁRIAS.

ATENÇÃO: QUALQUER DÚVIDA ESTOU A DISPOSIÇÃO POR WATSAPP DAS 16H AS 17H.

ÁREA DA LINGUAGEM

1- OBSERVE AS BOQUINHAS DAS VOGAIS A, E, I, O E U E CUBRA O PONTILHADO:



A E I O U



A E I O U
.....
a e i o u


AGORA COMPLETE OS DESENHOS COM AS VOGAIS QUE FALTAM:




G _ _ T _ _



B _ _ _ _



C _ _ P _ _ L _ _



_ _ _ V _ _



G _ _ L _ _ NH _ _



P _ _ DR _ _

2. CONTINUE COMPLETANDO COM AS VOGAIS FALTOSAS:

G A T O
G T





M A T O
M T

F O G O
F G

O V O
V

ÁREA DA MATEMÁTICA

1-CONTE OS ELEMENTOS E PINTE O NUMERAL CORRESPONDENTE:

	9		2
	4		1
	8		7
	5		8
	3		6
	4		9

AGORA CONTINUE OS NÚMEROS ATÉ 10:

0			3		
	7				11

ÁREA PSICOMOTORA:

SIGAM AS INSTRUÇÕES DAS ATIVIDADES E MONTEM O QUEBRA- CABEÇA:

- 1- PINTE O QUEBRA-CABEÇA COM CAPRICHOS.
- 2- PEGUE A RÉGUA ENAS LINHAS FAÇA PONTILHADOS;
- 3- RECORTE O QUEBRA CABEÇA NOS PONTILHADOS QUE VOCÊ FEZ;
- 4- AGORA MISTURE AS PEÇAS E MONTE O QUEBRA- CABEÇA E POR ÚLTIMO COLE-
O EM SEU CADERNO.

